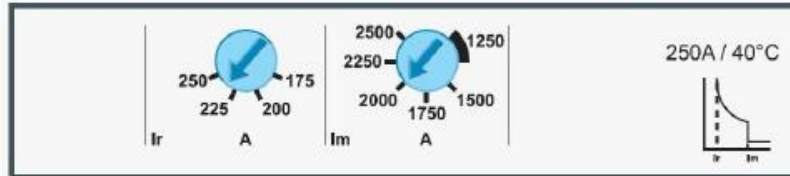


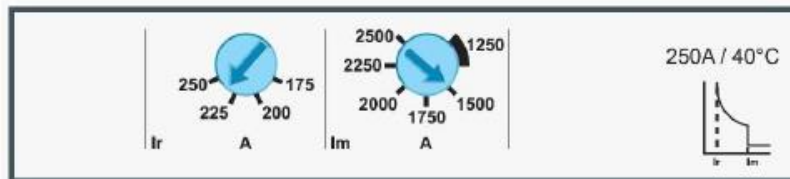
שאלה 289

דרגת קושי: קלה

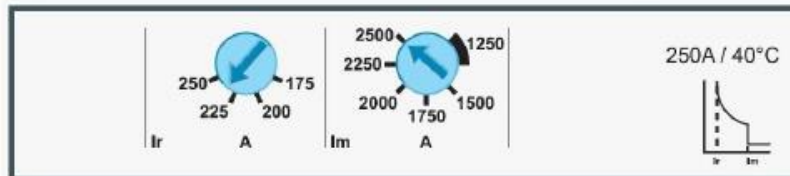
בלוח מסוג II קיים מפסק אוטומטי הניתן לכוונן, המזין לוח משנה. לולאת התקלה שנמדדה בלוח המשנה היא $50m\Omega$ איזו אפשרות מבין האפשרויות הבאות מהווה כיוון מרבי נכון של ההגנה במפסק זה?



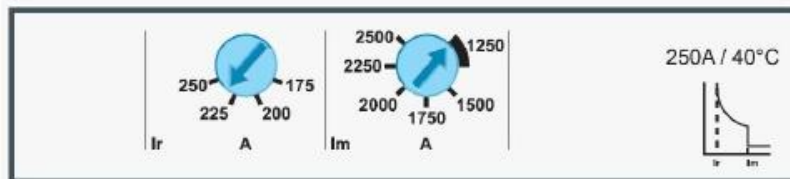
1



2



3



4

1. תמונה מספר 1

2. תמונה מספר 2

3. תמונה מספר 3

4. תמונה מספר 4

שאלה כיוון המירבי של המפסק לא קשור בכלל לשאלה

האם זה נכון ???????

תשובה מספר 3